

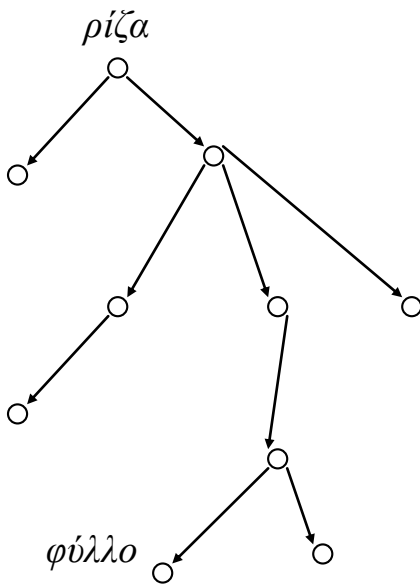
ΔΕΝΤΡΙΚΗ ΔΟΜΗ

Έστω G ένα κατευθυνόμενο γράφημα.

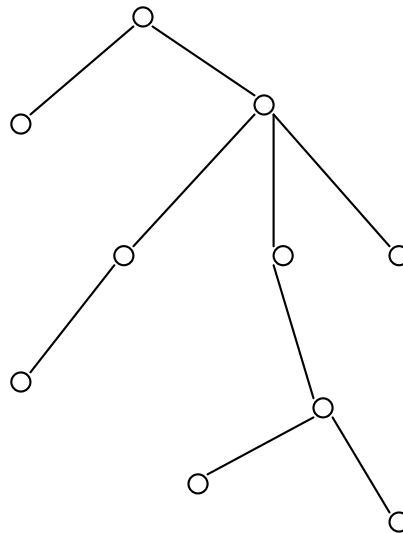
Για κάθε ακμή (u, v) του G , η κορυφή u ονομάζεται γονέας της v και η κορυφή v ονομάζεται παιδί της u .

Το γράφημα G ονομάζεται δεντρική δομή όταν αληθεύουν τα παρακάτω:

- 1 Υπάρχει μοναδική κορυφή ρ του G χωρίς γονέα, που ονομάζεται ρίζα του G .
- 2 Κάθε κορυφή εκτός από τη ρίζα έχει μοναδικό γονέα.
- 3 Κάθε κορυφή (που δεν είναι η ρίζα) είναι προσβάσιμη από τη ρίζα.

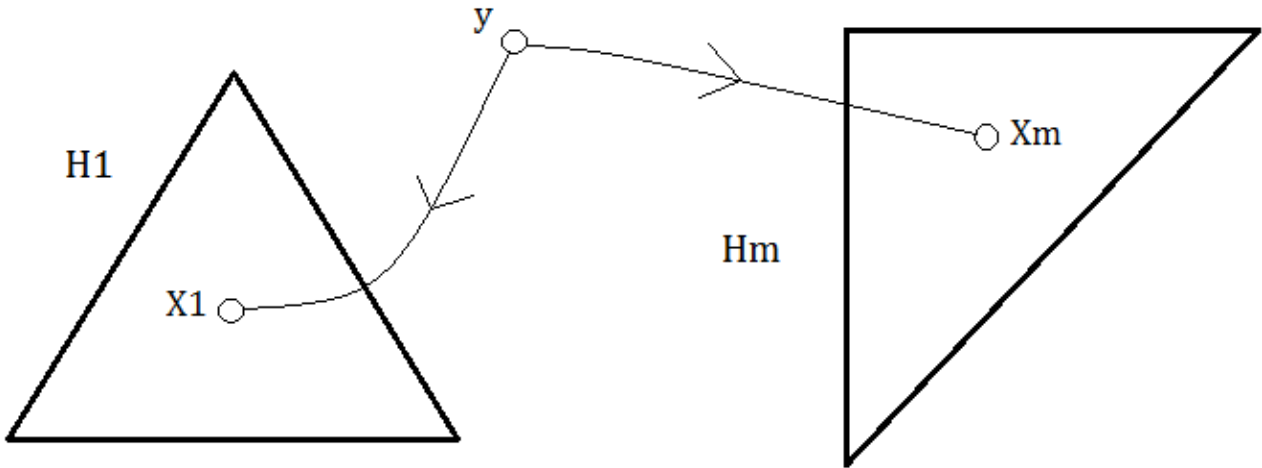


Δεντρική δομή



Δέντρο

Γενική μορφή δεντρικής δομής T με ρίζα y βαθμού $m \geq 1$



H_k το επαγόμενο υπο-γράφημα

με κορυφές $\{X_k\} \cup \{z \mid X_k R_\delta z\}$

κάθε H_k είναι δεντρική δομή με ρίζα X_k

$H_1 \dots H_m$ ξένα μεταξύ τους, $m \geq 1$

$\{y, X_k\}$ μοναδική ακμή του T που συνδέει τα y, H_k

ΕΡΩΤΗΜΑ 1

a Έστω T μία δεντρική δομή με ρίζα μία κορυφή y με γειτονικές κορυφές $X_1 \dots X_m$, $m \geq 1$, και H_k το επαγόμενο υπο-γράφημα με κορυφές $\{X_k\} \cup \{z \mid X_k R_\delta z\}$, $k = 1, \dots, m$. Ελέγξτε ότι:

Κάθε υπο-γράφημα H_j είναι δεντρική δομή με ρίζα X_j .

Τα υπο-γραφήματα $H_1 \dots H_m$ είναι ξένα μεταξύ τους.

Για κάθε υπο-γράφημα H_j , θα υπάρχει μοναδική ακμή $\{y, X_j\}$ που συνδέει την κορυφή y με το H_j .

b Δίνονται κατευθυνόμενα γραφήματα $H_j = (V_j, Z_j)$, $j = 1, \dots, m$, ξένα μεταξύ τους: κάθε H_j είναι δεντρική δομή με ρίζα την κορυφή X_j .

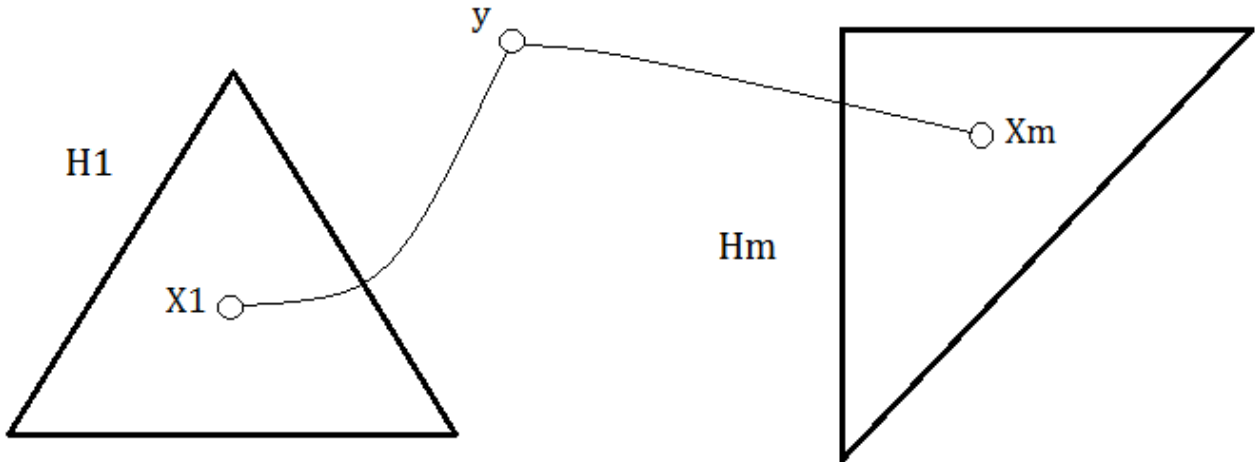
Έστω y μία κορυφή που δεν ανήκει σε κανένα H_j , και έστω το κατευθυνόμενο γράφημα $T = H_1 \cup \dots \cup H_m \cup \{(y, X_j) \mid j = 1, \dots, m\}$:

Ελέγξτε ότι το T θα είναι δεντρική δομή με ρίζα y .

ΔΕΝΤΡΟ

Ένα μη-κατευθυνόμενο γράφημα T ονομάζεται δέντρο, όταν είναι άκυκλο και συνεκτικό.

Γενική μορφή δέντρου T με κορυφή y βαθμού $m \geq 1$



$H_1 \dots H_m$ οι συνεκτικές συνιστώσες του $T - y$

κάθε H_k είναι δέντρο

$H_1 \dots H_m$ ξένα μεταξύ τους δέντρα, $m \geq 1$

$\{y, X_k\}$ μοναδική ακμή του T που συνδέει τα y, H_k

ΕΡΩΤΗΜΑ 2

a Έστω T ένα δέντρο, y μία κορυφή του T , και $H_1 \dots H_m$ οι συνεκτικές συνιστώσες του $T - y$. Ελέγξτε ότι:

Κάθε υπο-γράφημα H_j θα είναι δέντρο.

Για κάθε υπο-γράφημα H_j , θα υπάρχει μοναδική ακμή $\{y, X_j\}$ που συνδέει την κορυφή y με το H_j .

b Έστω $H_1 \dots H_m$ ξένα μεταξύ τους δέντρα, και y μία κορυφή που δεν ανήκει σε κανένα από τα H_j . Συνδέουμε την y με κάθε ένα από τα H_j , με μία μόνο ακμή $\{y, X_j\}$.

Έστω T το γράφημα $H_1 \cup \dots \cup H_m \cup \{\{y, X_j\} \mid j = 1, \dots, m\}$:

Ελέγξτε ότι το T θα είναι δέντρο.

ΠΑΡΑΔΕΙΓΜΑ ΕΠΑΓΩΓΗΣ

Για κάθε δέντρο $T = (V, E)$: $|E| = |V| - 1$.

Παραμετροποίηση της ιδιότητας , $n \geq 1$:

$P(n) = \{ \text{για κάθε δέντρο } T = (V, E) \text{ με } |V| \leq n \text{ κορυφές: } |E| = |V| - 1 \}$

Αποδεικνύουμε με μαθηματική επαγωγή ότι:

Για κάθε $n \geq 1$, $P(n)$.

Αρχική περίπτωση:

Ελέγχουμε ότι αληθεύει $P(1)$

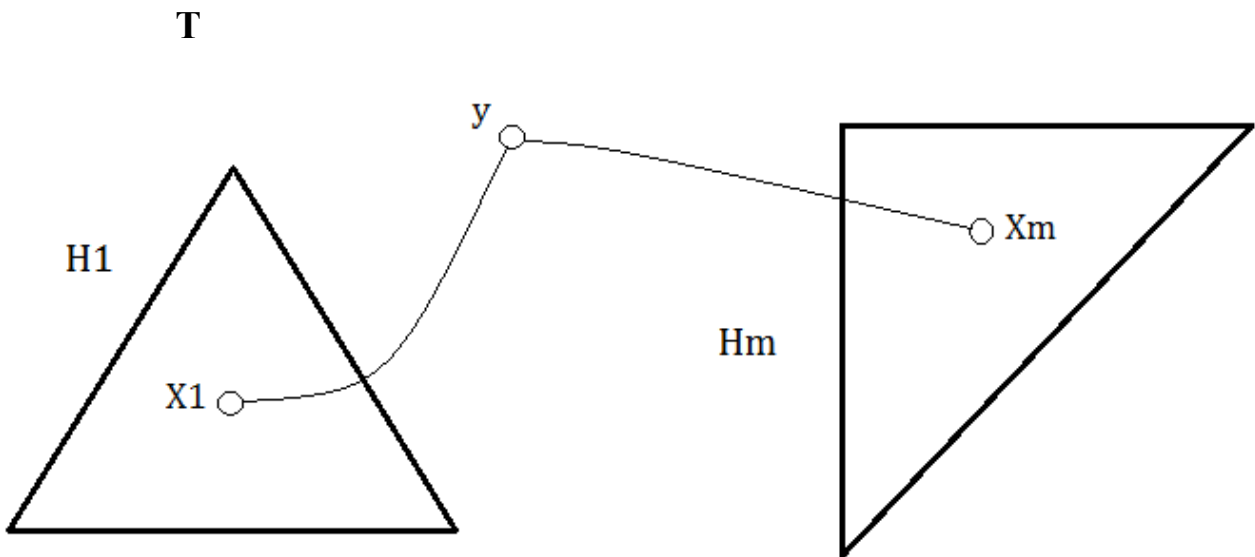
Επαγωγικό βήμα:

Υποθέτουμε ότι για κάποιο τυχαίο $K \geq 1$: αληθεύει ότι $P(K)$

Ελέγχουμε ότι για το παραπάνω K : αληθεύει ότι $P(K+1)$

$P(K+1) = \{ \text{για κάθε δέντρο } T = (V, E) \text{ με } |V| \leq K+1 \text{ κορυφές: } |E| = |V| - 1 \}$

Έστω: $T = (V, E)$ τυχαίο δέντρο με $|V| = K+1$ κορυφές.



$H_1 \dots H_m$ ξένα μεταξύ τους δέντρα, $m \geq 1$

$\{y, X_k\}$ η μοναδική ακμή του T που συνδέει τα y, H_k

i $T = H_1 \cup \dots \cup H_m \cup \{ \{y, X_k\} \mid k = 1, \dots, m \}$

ii Για $j = 1, \dots, m$:

$H_j = (V_j, E_j)$ όπου $1 \leq |V_j| \leq K$ % από ορισμό του H_j

$|E_j| = |V_j| - 1$ % από υπόθεση για K

iii $|E| = |E_1| + \dots + |E_m| + m$ % $H_1 \dots H_m$ ξένα μεταξύ τους

$= (|V_1| - 1) + \dots + (|V_m| - 1) + m$

$= |V_1| + \dots + |V_m|$

$= |V| - 1$

% $H_1 \dots H_m$ ξένα μεταξύ τους

ΕΡΩΤΗΜΑ 3

Από μία δεντρική δομή T κατασκευάζουμε ένα μη-κατευθυνόμενο γράφημα G , παραλείποντας τις κατευθύνσεις των ακμών του G .

Επιβεβαιώστε ότι:

- α Το γράφημα G θα είναι συνεκτικό.
- β Το γράφημα G θα είναι άκυκλο.

Επιβεβαίωση του Ερωτήματος 2

Χρησιμοποιούμε συνοπτική μαθηματική επαγωγή.

Αρχική περίπτωση:

Ελέγχουμε ότι αληθεύουν τα α, β όταν το T έχει μόνο μία κορυφή.

Επαγωγικό βήμα:

Υποθέτουμε ότι για κάποια τυχαία κατευθυνόμενα γραφήματα $H_j = (V_j, Z_j)$, $j = 1, \dots, m$, ξένα μεταξύ τους, όπου: κάθε H_j είναι δεντρική δομή με ρίζα την κορυφή X_j :
αληθεύουν τα α, β .

Ελέγχουμε ότι για το κατευθυνόμενο γράφημα $T = H_1 \cup \dots \cup H_m \cup \{ (y, X_j) \mid j = 1, \dots, m \}$:
αληθεύουν τα α, β .

Αναδρομικός υπολογισμός συναρτήσεων με όρισμα δέντρο

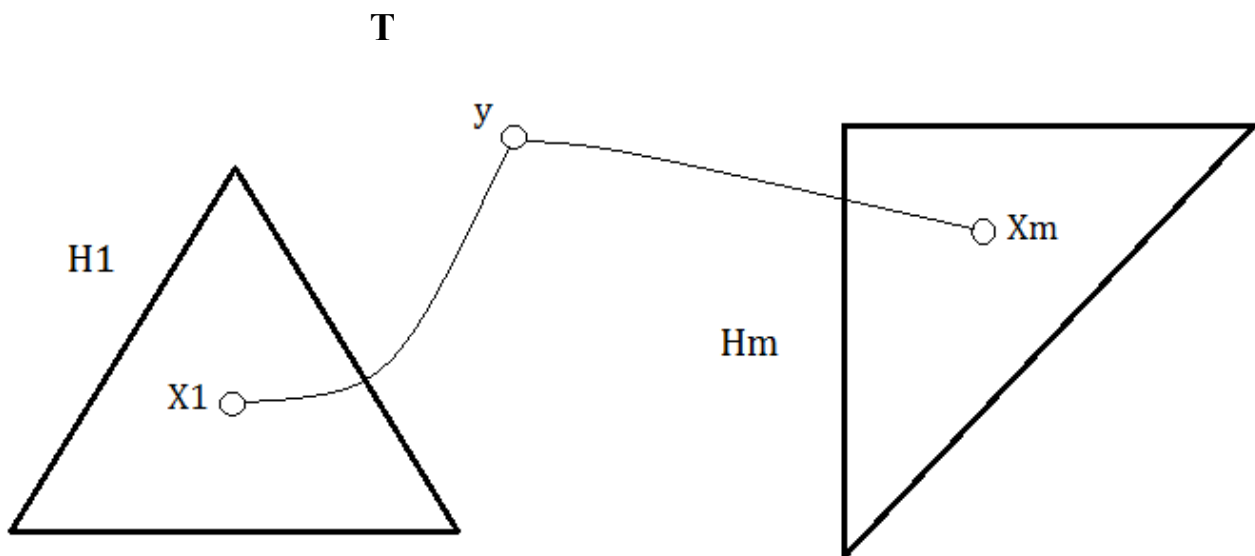
1) Για κάθε δέντρο $T = (V, E)$ και κάθε κορυφή y του T , η συνάρτηση $\delta(T, y)$ υπολογίζει μία δεντρική δομή $\Delta = (V, Z)$ με ρίζα την y .

Οι ακμές της δεντρικής δομής Δ προκύπτουν κατευθύνοντας τις ακμές του T .

$\delta(T, y)$

Όταν $V = \{y\}$: $\delta(T, y) = T$ με ρίζα την y % το δέντρο T δεν έχει ακμές

Όταν $|V| > 1$:



Υπολογίζονται τα υπογραφήματα $H_1 \dots H_m$, $m \geq 1$, και οι κορυφές $X_1 \dots X_m$.

$H_1 \dots H_m$ οι συνεκτικές συνιστώσες του $T - y$

$H_1 \dots H_m$ ξένα μεταξύ τους δέντρα,

$\{y, X_k\}$ η μοναδική ακμή του T που συνδέει τα y, H_k

Η κορυφή y ορίζεται ως ρίζα της δομής Δ .

Για $j = 1, \dots, m$, όπου $H_j = (V_j, E_j)$:

Υπολογίζεται, με την αναδρομική κλήση $\delta(H_j, X_j)$, μία δεντρική δομή $\Delta_j = (V_j, Z_j)$ με ρίζα την κορυφή X_j .

Στην δομή Δ , κάθε ακμή του H_j κατευθύνεται όπως στην δομή Δ_j .

Η κορυφή y γίνεται γονέας της X_j στην δομή Δ .

Επιβεβαίωση ορθότητας της αναδρομής (1) :

Δήλωση ορθότητας της αναδρομής (1) , για τον ακέραιο $n \geq 1$:

$D(n) = \{$ για κάθε δέντρο $T = (V, E)$ με $|V| \leq n$ κορυφές
και κάθε κορυφή y του T :
 $\delta(T, y)$ είναι δεντρική δομή $\Delta(V, Z)$
με ρίζα y και κατευθύνσεις στις ακμές του T }

Αποδεικνύουμε με μαθηματική επαγωγή ότι:

Για κάθε $n \geq 1$, $D(n)$.

Αρχική περίπτωση:

Ελέγχουμε ότι αληθεύει ότι $D(1)$

Επαγωγικό βήμα:

Υποθέτουμε ότι για κάποιο τυχαίο $K \geq 1$: αληθεύει ότι $D(K)$

Ελέγχουμε ότι για το παραπάνω K : αληθεύει ότι $D(K+1)$

$D(K+1) = \{$ για κάθε δέντρο $T = (V, E)$ με $|V| \leq K+1$ κορυφές
και κάθε κορυφή y του T :
 $\delta(T, y)$ είναι δεντρική δομή $\Delta(V, Z)$
με ρίζα y και κατευθύνσεις στις ακμές του T }

Έστω: $T = (V, E)$ τυχαίο δέντρο με $|V| = K+1$ κορυφές,
 y τυχαία κορυφή του T .

i $T = H_1 \cup \dots \cup H_m \cup \{ \{ y, X_j \} \mid j = 1, \dots, m \}$ % από ορισμό της δ

ii Για $j = 1, \dots, m$:

$H_j = (V_j, E_j)$ όπου $1 \leq |V_j| \leq K$ % από ορισμό της δ

$\delta(H_j, X_j)$ είναι δεντρική δομή $\Delta_j = (V_j, Z_j)$

με ρίζα X_j και κατευθύνσεις στις ακμές του H_j % από υπόθεση για K

iii $\delta(T, y)$ είναι δεντρική δομή $\Delta(V, Z)$

με ρίζα y και κατευθύνσεις στις ακμές του T

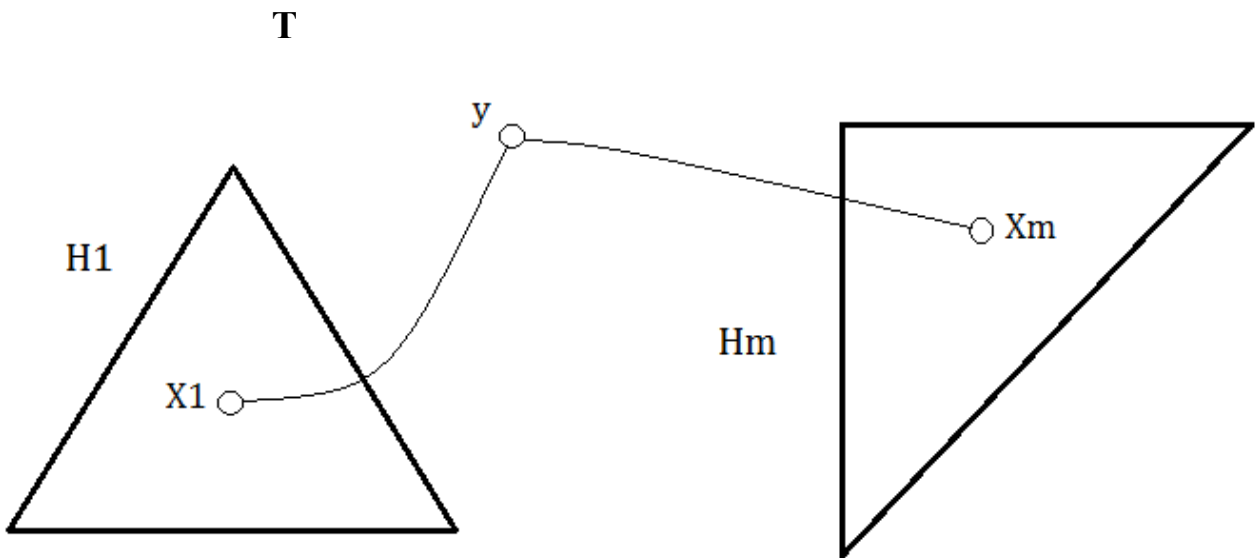
% από (ii) , ορισμό της δ ,
ορισμό δεντρικής δομής

2) Για κάθε δέντρο $T = (V, E)$ και κάθε κορυφή y του T , η συνάρτηση $\mu(T, y)$ υπολογίζει το μέγιστο μήκος των μονοπατιών του T που έχουν άκρο την y .

$\mu(T, y)$

Όταν $V = \{y\}$: $\mu(T, y) = 0$ % το δέντρο T δεν έχει ακμές

Όταν $|V| > 1$:



Υπολογίζονται τα υπογραφήματα $H1 \dots Hm$ και οι κορυφές $X1 \dots Xm$.

$H1 \dots Hm$ οι συνεκτικές συνιστώσες του $T - y$

$H1 \dots Hm$ ξένα μεταξύ τους δέντρα,

$\{y, Xk\}$ η μοναδική ακμή του T που συνδέει τα y, Hk

Για $j = 1, \dots, m$, όπου $Hj = (Vj, Ej)$:

Υπολογίζεται, με την αναδρομική κλήση $\mu(Hj, Xj)$,

το μέγιστο μήκος των μονοπατιών του Hj που έχουν άκρο την Xj .

$\mu(T, y) \leftarrow \text{maximum} \{ 1 + \mu(Hj, Xj) \}$

ΕΡΩΤΗΜΑ 4 Επιβεβαιώστε την ορθότητα της αναδρομής (2) .

Δήλωση ορθότητας της αναδρομής (2) ,
για το δέντρο T και την κορυφή y του T :

$D(T, y) = \{ \mu(T, y) \}$ είναι το μέγιστο μήκος
των μονοπατιών του T που έχουν άκρο την y }

Αποδεικνύουμε με συνοπτική μαθηματική επαγωγή ότι:

Για κάθε T, y , αληθεύει ότι $D(T, y)$.

Αρχική περίπτωση:

Ελέγχουμε ότι αληθεύει ότι $D(T, y)$ όταν το T έχει μόνο μία κορυφή.

Επαγωγικό βήμα:

Υποθέτουμε ότι για κάποια τυχαία μη-κατευθυνόμενα γραφήματα

$H_j = (V_j, Z_j)$, $j = 1, \dots, m$, ξένα μεταξύ τους, όπου:
κάθε H_j είναι δέντρο με κορυφή X_j :

αληθεύει ότι $D(H_j, X_j)$.

Ελέγχουμε ότι για το μη-κατευθυνόμενο γράφημα

$T = H_1 \cup \dots \cup H_m \cup \{ (y, X_j) \mid j = 1, \dots, m \}$:

αληθεύει ότι $D(T, y)$.

ΕΡΩΤΗΜΑ 5 Γράψτε μία συνάρτηση $m(T)$ που να υπολογίζει με αναδρομή,
για κάθε δεδομένο δέντρο T , το μέγιστο μήκος των μονοπατιών του T .