

# ΔΙΑΚΡΙΤΑ ΜΑΘΗΜΑΤΙΚΑ

Εξετάσεις Ιουλίου 2014

Διδάσκοντες: Χ. Ζαγούρας, Δ. Καββαδίας

Σημείωση: Τα αναφερόμενα γραφήματα βρίσκονται στο τέλος των εκφωνήσεων

1. Να βρεθεί ένα ελάχιστο επικαλύπτον δέντρο του γραφήματος  $G_1$ .

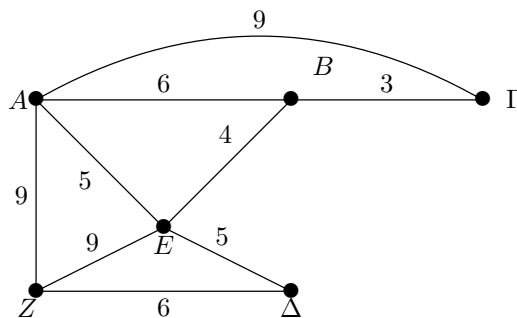
## Απάντηση

Για το γράφημα  $G_1$  έχουμε πλήθος κορυφών  $\nu = 6$  και πλήθος ακμών  $\mu = 10$ . Ο Αλγόριθμος Αντίστροφης Διαγραφής εφαρμόζεται και θα σταματήσει μόλις παραμείνουν 5 ακμές στο γράφημα.

Ακμή Μήκος

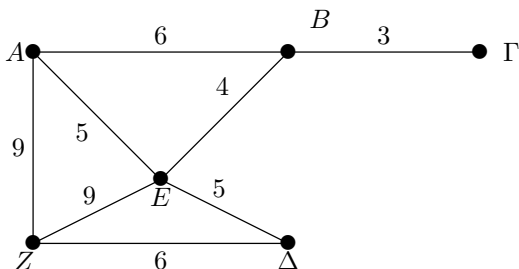
$A\Delta$	11
$A\Gamma$	9
$AZ$	9
$ZE$	9
$AB$	6
$Z\Delta$	6
$AE$	5
$E\Delta$	5
$BE$	4
$B\Gamma$	3

Η διαγραφή της ακμής  $A\Delta$  δεν επηρεάζει τη συνεκτικότητα του γραφήματος, επομένως μπορεί να διαγραφεί. Προκύπτει επομένως το ακόλουθο γράφημα με 9 ακμές:

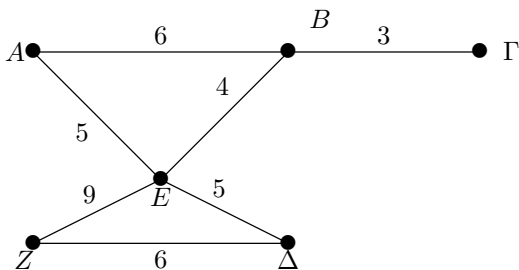


Συνεχίζουμε εξετάζοντας την ακμή  $A\Gamma$ . Η διαγραφή της ακμής  $A\Gamma$  δεν

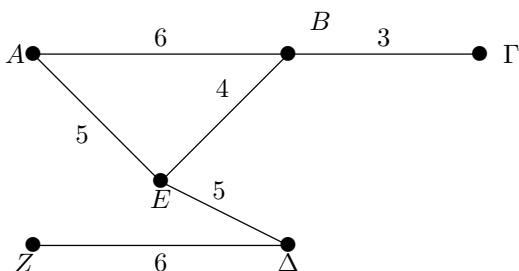
επηρεάζει τη συνεκτικότητα του γραφήματος, επομένως μπορεί να διαγραφεί. Προκύπτει τώρα το ακόλουθο γράφημα με 8 ακμές:



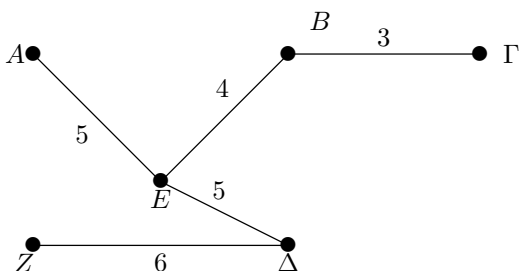
Συνεχίζουμε εξετάζοντας την ακμή  $AZ$ . Η διαγραφή της ακμής  $AZ$  δεν επηρεάζει τη συνεκτικότητα του γραφήματος, επομένως μπορεί να διαγραφεί. Προκύπτει τώρα το ακόλουθο γράφημα με 7 ακμές:



Εξετάζουμε τώρα την ακμή  $ZE$ , η οποία μπορεί επίσης να διαγραφεί. Προκύπτει τώρα το ακόλουθο γράφημα με 6 ακμές:



Συνεχίζουμε εξετάζοντας την ακμή  $AB$ , η διαγραφή της οποίας δεν επηρεάζει τη συνεκτικότητα του γραφήματος. Προκύπτει τώρα το ακόλουθο γράφημα με 5 ακμές:

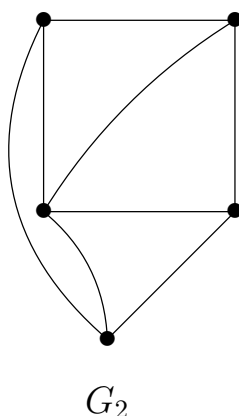


Ο αλγόριθμος σταματά, και το τελικό γράφημα που προέκυψε είναι ελάχιστο επικαλύπτον δέντρο του γραφήματος  $G_1$  με συνολικό μήκος 23.

2. Για το γράφημα  $G_2$  εξετάστε αν (α) είναι επίπεδο, (β) είναι διμερές και (γ) βρείτε τον χρωματικό αριθμό του.

### Απάντηση

(α) το γράφημα είναι επίπεδο, και μια επίπεδη αναπαράστασή του είναι

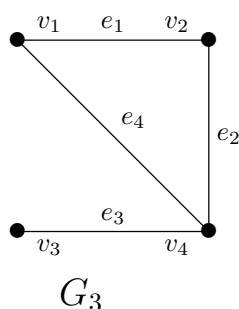


(β)-(γ) Το γράφημα έχει χρωματικό αριθμό 3, επομένως δεν είναι διμερές.

3. Να βρεθούν οι πίνακες γειτνίασης, αντιστοιχιών, διασυνδέσεων και βαθμών για το γράφημα  $G_3$ .

### Απάντηση

Θεωρούμε μια διάταξη των κορυφών και των ακμών του  $G_3$ :



Ο πίνακας γειτνίασης είναι  $A = \begin{pmatrix} 0 & 1 & 0 & 1 \\ 1 & 0 & 0 & 1 \\ 0 & 0 & 0 & 1 \\ 1 & 1 & 1 & 0 \end{pmatrix}$ . Ο πίνακας αντιστοι-

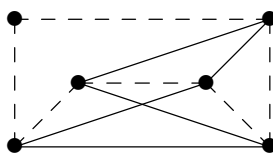
χιών είναι  $B = \begin{pmatrix} 1 & 0 & 0 & 1 \\ 1 & 1 & 0 & 0 \\ 0 & 0 & 1 & 0 \\ 0 & 1 & 1 & 1 \end{pmatrix}$ . Ο πίνακας διασυνδέσεων είναι  $\Delta = \begin{pmatrix} 1 & 1 & 1 & 1 \\ 1 & 1 & 1 & 1 \\ 1 & 1 & 1 & 1 \\ 1 & 1 & 1 & 1 \end{pmatrix}$ . Ο πίνακας βαθμών είναι  $D = \begin{pmatrix} 2 & 0 & 0 & 0 \\ 0 & 2 & 0 & 0 \\ 0 & 0 & 1 & 0 \\ 0 & 0 & 0 & 3 \end{pmatrix}$ .

4. Δίνεται το γράφημα  $G_4$ . (α) Είναι γράφημα-Euler; (β) Είναι γράφημα-Hamilton; Αιτιολογήστε.

### Απάντηση

(α) Κάθε κορυφή του γραφήματος έχει άρτιο βαθμό, επομένως είναι γράφημα-Euler.

(β) Υπάρχει κύκλος (διακεκομμένες ακμές) που περιέχει όλες τις κορυφές, επομένως είναι γράφημα-Hamilton



$G_4$

5. Έστω  $p_1$  και  $p_2$  προτασιακές μεταβλητές. Εξετάστε αν οι παρακάτω δηλώσεις είναι σωστές. Αιτιολογήστε την απάντησή σας.

- i. Ο προτασιακός τύπος  $(p_1 \rightarrow p_2) \rightarrow (\neg p_2 \rightarrow \neg p_1)$  είναι ταυτολογία.
- ii. Ο προτασιακός τύπος  $(p_1 \rightarrow p_2) \rightarrow (\neg p_2 \wedge \neg p_1)$  είναι αντίφαση.
- iii.  $p_1 \wedge \neg p_1 \models p_2 \wedge \neg p_2$
- iv.  $(p_1 \wedge \neg p_1) \rightarrow p_2 \models p_2$

### Απάντηση

- i. Αναζητούμε αποτίμηση που διαψεύδει τον τύπο. Θα πρέπει λοιπόν η υπόθεση  $p_1 \rightarrow p_2$  να είναι αληθής και το συμπέρασμα  $\neg p_2 \rightarrow \neg p_1$  να είναι ψευδές. Για να συμβαίνει το τελευταίο πρέπει  $p_2$  να είναι ψευδής και  $p_1$  αληθής. Όμως αυτή η αποτίμηση διαψεύδει και την υπόθεση και άρα η συνεπαγωγή είναι αληθής. Άρα δεν υπάρχει αποτίμηση που διαψεύδει τον τύπο, άρα είναι ταυτολογία.

- ii. Πρέπει κάθε αποτίμηση να διαψεύδει τον τύπο. Άρα πρέπει  $p_1 \rightarrow p_2$  να είναι αληθής και  $\neg p_2 \wedge \neg p_1$  να είναι ψευδής. Όμως αν  $p_1$  και  $p_2$  ψευδή, το συμπέρασμα είναι αληθές και άρα και όλος ο τύπος. Άρα δεν είναι αντίφαση.
  - iii. Ο αριστερά τύπος είναι αντίφαση άρα συνεπάγεται ταυτολογικά οποιονδήποτε τύπο. Η δήλωση ισχύει.
  - iv. Ο αριστερά τύπος είναι ταυτολογία μια και η υπόθεση της συνεπαγωγής είναι αντίφαση. Όμως ο δεξιά μπορεί να διαψευστεί όταν  $p_2$  ψευδής. Άρα η δήλωση δεν ισχύει.
6. Στην πρωτοβάθμια γλώσσα που ορίζεται σε απλά μη κατευθυνόμενα γραφήματα και είναι εφοδιασμένη με ένα διμελές κατηγορηματικό σύμβολο  $G$  με «ερμηνεία “  $G(x, y)$ : οι κορυφές  $x$  και  $y$  συνδέονται με ακμή”, γράψτε τύπο  $\varphi(x, y)$  που να δηλώνει “Αν η κορυφή  $x$  είναι απομονωμένη, τότε και η κορυφή  $y$  είναι απομονωμένη” (απομονωμένη σημαίνει ότι δεν συνδέεται με καμιά άλλη).

### Απάντηση

$$\varphi(x, y) = \forall u \neg G(x, u) \rightarrow \forall u \neg G(y, u)$$

7. 30 πρόσκοποι (που θεωρούνται διακεκριμένοι) πρόκειται να κατασκηνώσουν. Με πόσους τρόπους μπορούν να τακτοποιηθούν στις σκηνές αν:
- i. έχουν διαθέσιμες 5 αριθμημένες (διακεκριμένες) σκηνές των 6 ατόμων;
  - ii. έχουν διαθέσιμες 5 πανομοιότυπες (μη διακεκριμένες) σκηνές των 6 ατόμων;
  - iii. έχουν διαθέσιμες 1 σκηνή των 10 ατόμων, 1 σκηνή των 8, 1 σκηνή των 7 και 1 σκηνή των 5 ατόμων;
  - iv. έχουν διαθέσιμες 3 μεγάλες διακεκριμένες σκηνές των 25 ατόμων και στην 1η θα μπουν 10 ή περισσότεροι, στην 2η από 15 έως 20 και στην 3η άρτιος αριθμός; Για το υπο-ερώτημα αυτό οι πρόσκοποι θεωρούνται μη διακεκριμένοι (άρα έχει σημασία μόνο ο αριθμός τους σε κάθε σκηνή) και ζητείται να δώσετε γεννήτρια συνάρτηση και να υποδείξετε τον συντελεστή της δύναμης του  $x$  για τον αριθμό των τρόπων που μπορούν να τακτοποιηθούν στις σκηνές. Δεν χρειάζεται να υπολογίσετε τον συντελεστή.

### Απάντηση

- i. Πρόκειται για μεταθέσεις 30 αντικειμένων (οι πρόσκοποι) τα οποία χωρίζονται σε ομάδες μη διακεκριμένων αντικειμένων μέσα στην ομάδα (οι πρόσκοποι κάθε σκηνής). Αλλιώς: αν έχουμε από 6 'εισητήρια' με τους αριθμούς 1,2,3,4,5, η τοποθέτηση κάθε πρόσκοπου γίνεται ανάλογα με το εισητήριο που θα του τύχει, στην αντίστοιχη σκηνή. Ο αριθμός των τοποθετήσεων είναι όσες οι συμβολοσειρές με τα σύμβολα 1,2,3,4,5 όπου κάθε ένα χρησιμοποιείται 6 φορές. Ο αριθμός είναι λοιπόν  $\frac{30!}{6!^5}$ .
- ii. Τώρα οι σκηνές είναι μη διακεκριμένες και άρα οι τρόποι είναι όσοι οι παραπάνω διαιρεμένοι με το 5! ώστε να φύγει η διάταξη από τις σκηνές. Δηλαδή  $\frac{30!}{6!^5 5!}$
- iii. Οι σκηνές είναι διακεκριμένες λόγω της διαφορετικής χωρητικότητας τους και άρα όπως και στο (i) οι τρόποι είναι  $\frac{30!}{10!8!7!5!}$ .
- iv. Εφόσον τώρα μετράει μόνο ο αριθμός των προσκόπων που βρίσκονται σε κάθε σκηνή, η γεννήτρια θα είναι συνήθης και θα είναι:

$$(x^{10} + x^{11} + \dots + x^{25})(x^{15} + \dots + x^{20})(1 + x^2 + x^4 + \dots + x^{24})$$

όπου οι παράγοντες από αριστερά προς τα δεξιά είναι οι απαριθμητές για την 1η, 2η και 3η σκηνή αντίστοιχα. Στο ανάπτυγμα της παράστασης αυτής αναζητούμε τον συντελεστή του  $x^{30}$ .

8. Πόσες είναι οι ακέραιες και μη αρνητικές λύσεις της ανίσωσης  $x_1 + x_2 + x_3 + x_4 + x_5 < 100$ ;

### Απάντηση

Η δοθείσα ανίσωση μπορεί να μετατραπεί σε εξίσωση με την εισαγωγή μιας ακόμη μη αρνητικής ακέραιας μεταβλητής  $s$ . Ζητούμε λοιπόν τον αριθμό των λύσεων της εξίσωσης  $x_1 + x_2 + x_3 + x_4 + x_5 + s = 99$  με  $x_i \geq 0, i = 1, \dots, 5$  και  $s \geq 0$ . Είναι εύκολο να διαπιστώσουμε ότι οποιαδήποτε 5-αδα μεταβλητών που ικανοποιεί την ανίσωση αντιστοιχεί σε μία και μόνη 6-αδα μεταβλητών που ικανοποιεί την εξίσωση και το αντίστροφο. Επομένως αρκεί να μετρήσουμε τις λύσεις της εξίσωσης που είναι όσοι οι τρόποι διανομής 99 μη διακεκριμένων σφαιρών σε 6 διακεκριμένες υποδοχές. Ο αριθμός αυτός είναι  $\binom{99+6-1}{99} = \binom{104}{99}$ .

9. (i) Για την παρακάτω  $n \times n$  ορίζουσα  $D_n$  γράψτε μία αναδρομική σχέση (θα είναι αναδρομική 2ης τάξης) που συνδέει την τιμή της με τις τιμές ορίζουσών μικρότερης τάξης.

$$D_n = \begin{pmatrix} 4 & 2 & 0 & \cdots & 0 & 0 & 0 \\ 2 & 4 & 2 & \cdots & 0 & 0 & 0 \\ 0 & 2 & 4 & \cdots & 0 & 0 & 0 \\ \vdots & \cdots & \vdots & \ddots & \vdots & \cdots & \vdots \\ 0 & 0 & 0 & \cdots & 4 & 2 & 0 \\ 0 & 0 & 0 & \cdots & 2 & 4 & 2 \\ 0 & 0 & 0 & \cdots & 0 & 2 & 4 \end{pmatrix}$$

(ii) Υπολογίστε την τιμή της  $D_n$  επιλύοντας με την βοήθεια γεννητριών συναρτήσεων την αναδρομική σχέση που γράψατε στο (i).

### Απάντηση

Για διευκόλυνση στις πράξεις βγάζουμε κοινό παράγοντα το 2 από κάθε στήλη της  $D_n$ . Επειδή οι στήλες είναι  $n$  έχουμε ότι  $D_n = 2^n d_n$  όπου  $d_n$  η ορίζουσα:

$$d_n = \begin{pmatrix} 2 & 1 & 0 & \cdots & 0 & 0 & 0 \\ 1 & 2 & 1 & \cdots & 0 & 0 & 0 \\ 0 & 1 & 2 & \cdots & 0 & 0 & 0 \\ \vdots & \cdots & \vdots & \ddots & \vdots & \cdots & \vdots \\ 0 & 0 & 0 & \cdots & 2 & 1 & 0 \\ 0 & 0 & 0 & \cdots & 1 & 2 & 1 \\ 0 & 0 & 0 & \cdots & 0 & 1 & 2 \end{pmatrix}$$

Αναπτύσσουμε την  $d_n$  κατά την 1η στήλη και έχουμε

$$d_n = 2d_{n-1} - \alpha_{n-1}$$

όπου  $\alpha_{n-1}$  η  $(n-1) \times (n-1)$  ορίζουσα:

$$\alpha_{n-1} = \begin{pmatrix} 1 & 0 & 0 & \cdots & 0 & 0 & 0 \\ 1 & 2 & 1 & \cdots & 0 & 0 & 0 \\ 0 & 1 & 2 & \cdots & 0 & 0 & 0 \\ \vdots & \cdots & \vdots & \ddots & \vdots & \cdots & \vdots \\ 0 & 0 & 0 & \cdots & 2 & 1 & 0 \\ 0 & 0 & 0 & \cdots & 1 & 2 & 1 \\ 0 & 0 & 0 & \cdots & 0 & 1 & 2 \end{pmatrix}$$

που εύκολα φαίνεται (με ανάπτυξη κατά την 1η γραμμή) ότι ισούται με την  $d_{n-2}$ . Η ζητούμενη αναδρομική σχέση είναι λοιπόν

$$d_n = 2d_{n-1} - d_{n-2}, \text{ για } n \geq 2$$

Έχουμε επίσης  $d_1 = 2$  και θέτουμε  $d_0 = 1$  ώστε η ακολουθία να αρχίζει από  $n = 0$  και να συμφωνεί στην αναδρομική σχέση. Μπορούμε τώρα να πολλαπλασιάσουμε με το  $2^n$  ώστε να βρούμε την αναδρομική σχέση που αφορά την ορίζουσα  $D_n$ , όμως είναι ευκολότερο να επιλύσουμε αυτή την αναδρομική σχέση.

Για  $n \geq 2$  λοιπόν πολλαπλασιάζουμε με  $x^n$  και έχουμε:

$$\sum_{n=2}^{\infty} d_n x^n = 2 \sum_{n=2}^{\infty} d_{n-1} x^n - \sum_{n=2}^{\infty} d_{n-2} x^n$$

Ή αλλιώς

$$\sum_{n=2}^{\infty} d_n x^n = 2x \sum_{n=2}^{\infty} d_{n-1} x^{n-1} - x^2 \sum_{n=2}^{\infty} d_{n-2} x^{n-2}$$

Θέτοντας σαν  $\Delta(x) = \sum_{n=0}^{\infty} d_n x^n$ , τη γεννήτρια συνάρτηση της ακολουθίας παίρνουμε:

$$\Delta(x) - 2x - 1 = 2x(\Delta(x) - 1) - x^2 \Delta(x)$$

Λύνουμε ως προς  $\Delta(x)$  και έχουμε:

$$\Delta(x) = \frac{1}{(1-x)^2}$$

Η ακολουθία που έχει σαν γεννήτρια συνάρτηση την  $\Delta(x)$  είναι λοιπόν η  $d_n = \binom{2+n-1}{n} = n+1$ ,  $n = 0, 1, 2, \dots$ . Επανερχόμενοι στην  $D_n$  παίρνουμε τελικά,

$$D_n = 2^n(n+1), \quad n = 0, 1, 2, \dots$$

