

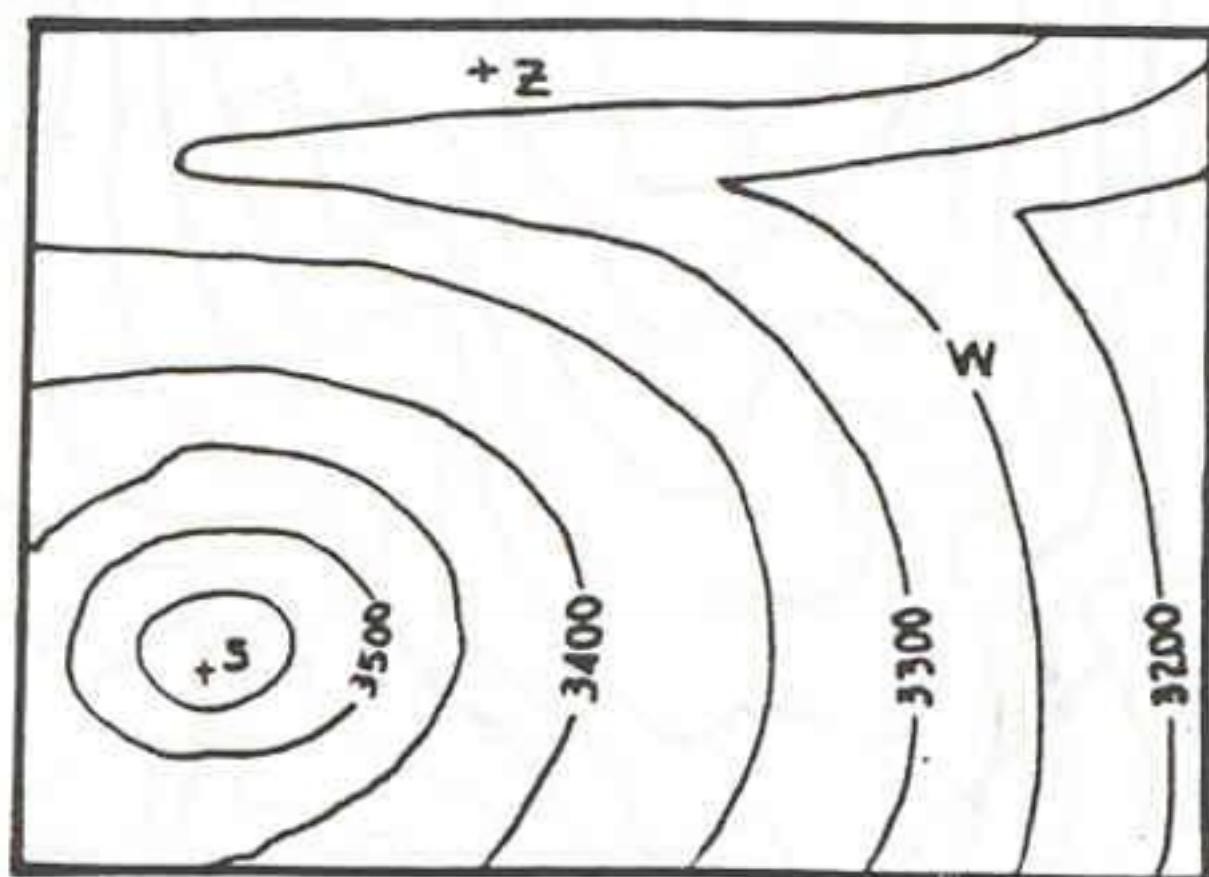
ΠΛΑΝΗΤΗΣ ΓΗ

Α' εξάμηνο

Εργαστηριακή Άσκηση 1

Απαντήστε στις ερωτήσεις των παρακάτω τριών μικρών τοπογραφικών χαρτών.

1.



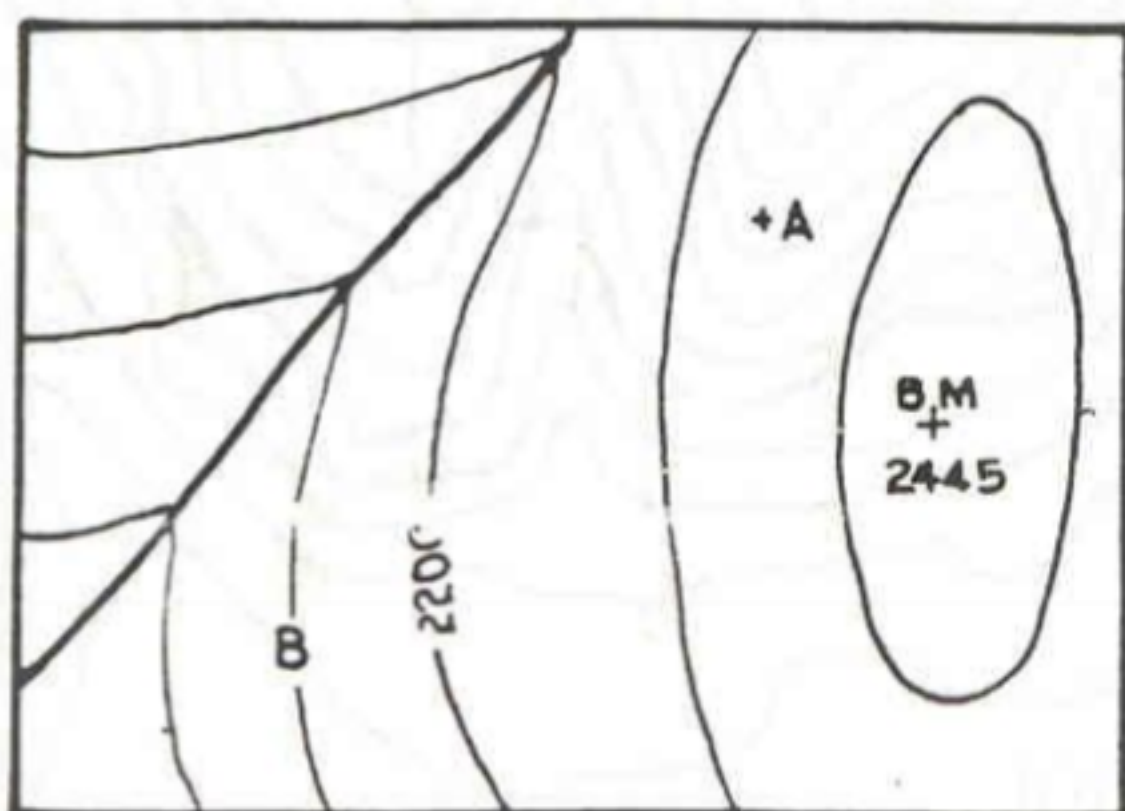
Ποιο είναι το υψόμετρο στο σημείο S:

Στο σημείο Z:

Στο σημείο W:

Τι παριστάνει το ανάγλυφο του χάρτη 1;

2.



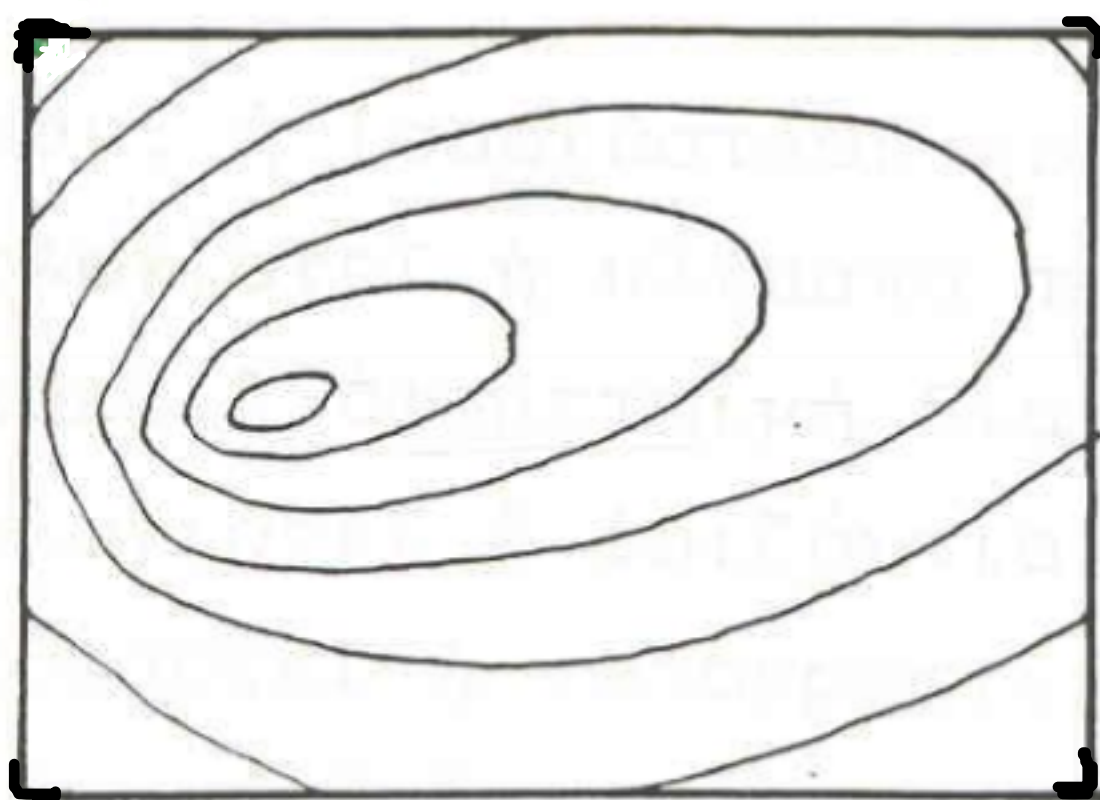
Πού εντοπίζεται το ποτάμι στο χάρτη 2;

Ποια είναι η τιμή της ισούψους B;

Ποιο είναι το υψόμετρο στο σημείο A;

Προς ποια διεύθυνση κυλάει το ποτάμι;

3.



Τι παριστάνει ο χάρτης 3;

Πως το αναγνωρίζεται;

Ποια είναι η πιο απότομη πλαγιά και ποιά η πιο ομαλή;

Ποιό είναι το χαμηλότερο σημείο του χάρτη;

